





せいしょうねん
びわ青少年の家で見つけた生き物を
3つ書いてください。



問題 2

スタッフハウスには、人が(?)人
えが
描かれています。






^{せいしょうねん}
びわ青少年の家にはないものは、次の
うちどれでしょう。

ア： 電話ボックス

イ：^{じどうはんばいき}
自動販売機

ウ： 動物のはく^{せい}製





問題 4

しゅくはくとう
宿泊棟からスタッフハウスまでは、
（？）段の階段で行くことができます。





平塚市の市民の鳥は、シラサギ。

市民の花は、ナデシコ。


市民の木は、(?)。

ひろばしゅうへん
広場周辺で答えを見つけよう。





^{もんだい}この問題カードがかかっている^{しょくぶつ}植物
^えの^か絵を描いてください。





問題 7

第一^{だい}野外^{いちやがい}炊事場^{いすいじば}の野外^{やがい}食卓^{しょくたく}の数

+


第二^{だい}野外^{にやがい}炊事場^{いすいじば}のかまどの数

-

野外^{やがい}トイレ^{いし}の蛇口^{じちぐち}の数

=

(?)






せいしょうねん とち
びわ青少年の家の土地の広さに一番
近いものは、次のうちどれでしょう。

ア： サッカーグラウンド 2 面分

イ： サッカーグラウンド 4 面分

ウ： サッカーグラウンド 8 面分





この場所で聞こえた音を文字にして
あらわ
表してください。



問題 10

せいしょうねん ひょうこう なん
びわ青少年の家の標高は、何メートルでしょう。



問題 11

あんないず
正しい案内図は、どちらでしょう。

ア：



イ：






問題 12

せいしょうねん いち
びわ青少年の家がある正しい位置を


しめ
示しているのは、次のうちどれでしょう。






せいしょうねん しきちない み
びわ青少年の家の敷地内で、見かけ
ることがない動物は、次のうちどれで
しょう。

- ア： タヌキ
- イ： イノシシ
- ウ： ヒグマ
- エ： ハクビシン
- オ： サル





せいしょうねん
びわ青少年の家にある、青い屋根の
たてももの
建物の名前はなんというでしょう。






しゅくはくとう 宿泊棟のすぐ下にある ちゅうしゃじょう 駐車場に
は、車を (?) 台 ちゅうしゃ 駐車できます。





問題 16

しゃしん かく
写真の隠れているところには、なんと
書いてあるでしょう。





問題 17

第二^{だいに}野外炊事場^{やがいすいじば}の野外食卓^{やがいしょくたく}の数

+

施設内^{しせつない}のトーテムポールの数

=

(?)

※ トーテムポールとは動物^{どうぶつ}や物語^{ものがたり}の人物^{じんぶつ}などが彫刻^{ちようこく}された木の柱^{はしら}のこと。



せいしょうねん
びわ青少年の家で作ることができない
ものは、次のうちどれでしょう。

ア： サツマイモ

イ： カレー

ウ： バームクーヘン

エ： お米

オ： 竹のしょっき食器



ほんとう とり
本当にいる鳥は、次のうちどれでしょう。

しゅくはくとう ずかん しら
宿泊棟ロビーにある図鑑で調べてみよ
う。

ア： ウソ

イ： マジ



なか ま はず
仲間外れは、次のうちどれでしょう。

しゅくはくとう ず かん しら
宿泊棟ロビーにある図鑑で調べてみよ
う。

ア： アサガオ

イ： ヒルガオ

ウ： ユウガオ